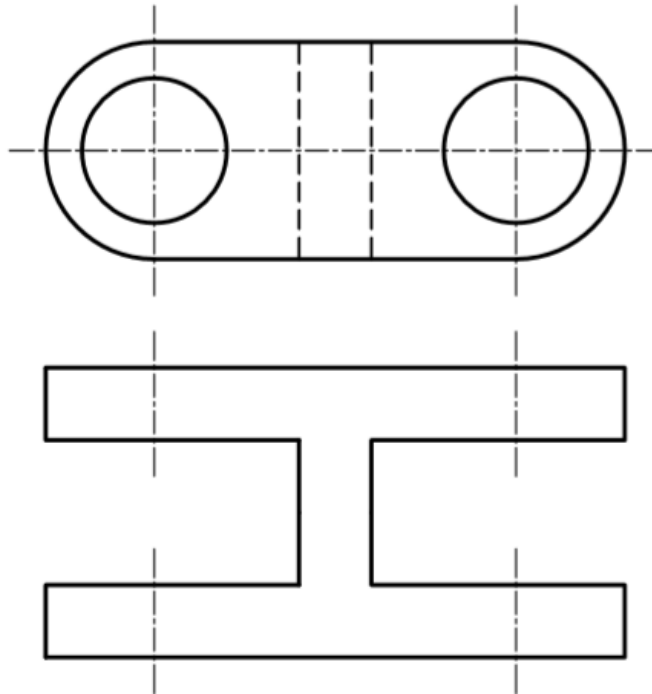
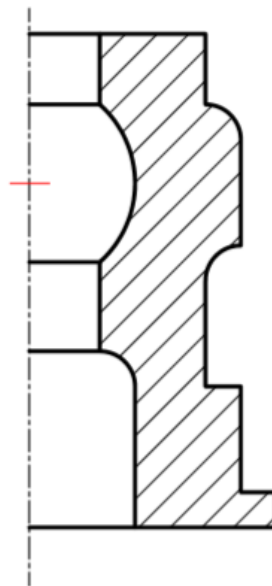


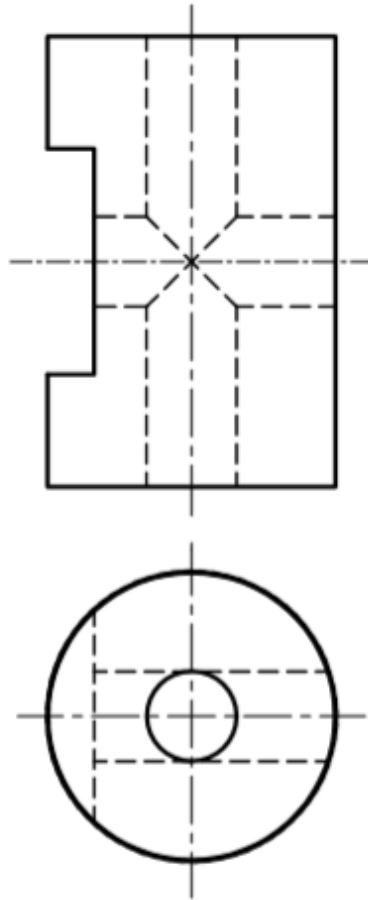
A4.- Completar la representación de la figura, incluyendo, en la planta, un corte por su plano de simetría. Acótese según normativa para su correcta definición dimensional.



B4.- Completar la representación de la figura, que corresponde a una pieza de revolución con un corte a un cuarto, añadiendo, sin seccionar, la parte que falta a la izquierda. Acótese según normativa para su correcta definición dimensional.



A4.- Obtener el perfil a partir de las vistas diédricas dadas y acotar hasta su completa definición dimensional.



B4. Acotar, según normas, la pieza de revolución representada a escala E 1:1.

