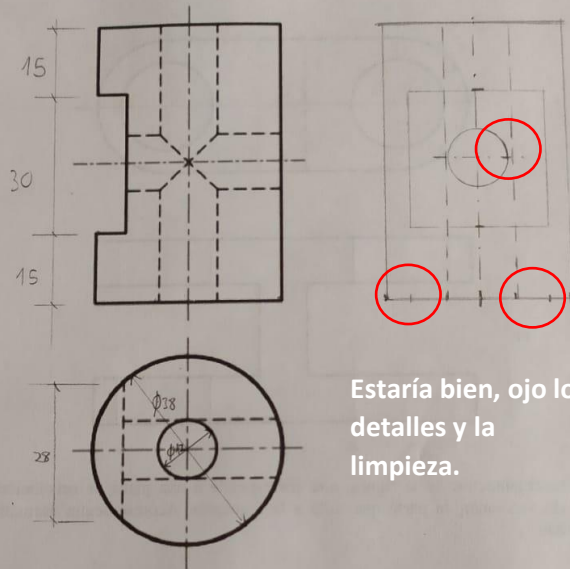


DT II 1er ejercicio. 11-13 marzo. Tened en cuenta que voy a tener que calificaros los ejercicios, mandé unos croquis que veo no habéis tenido mucho en cuenta. Las cotas pueden estar en otra disposición pero es importante que estén todas.

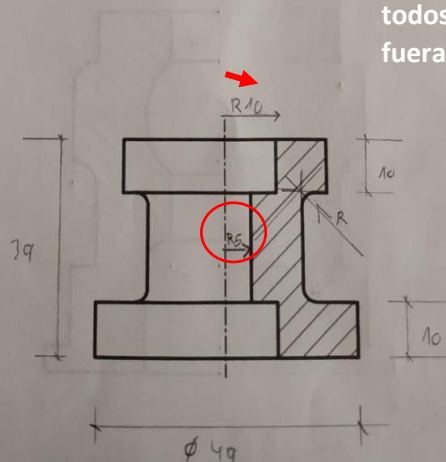
DTII Ejercicios correspondientes a los días 11 y 13 de marzo de 2020 (entrega 16-03-20 12.25h) I.E.S. El Escorial

A4.- Obtener el perfil a partir de las vistas diédricas dadas y acotar hasta su completa definición dimensional.



Estaría bien, ojo los detalles y la limpieza.

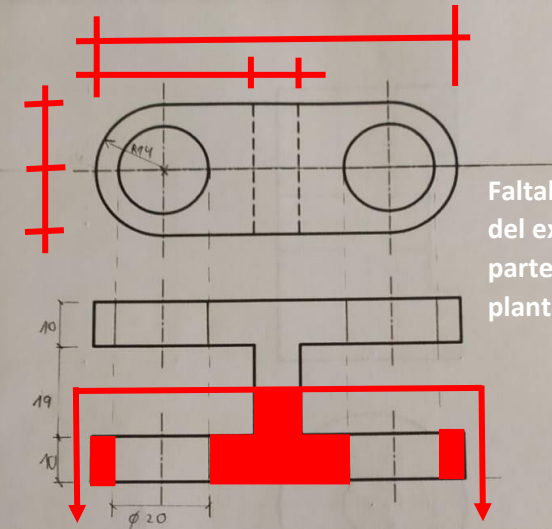
B4.- Acotar, según normas, la pieza de revolución representada a escala E 1:1.



Estaría bien, ojo los todos los radios por fuera si es posible.

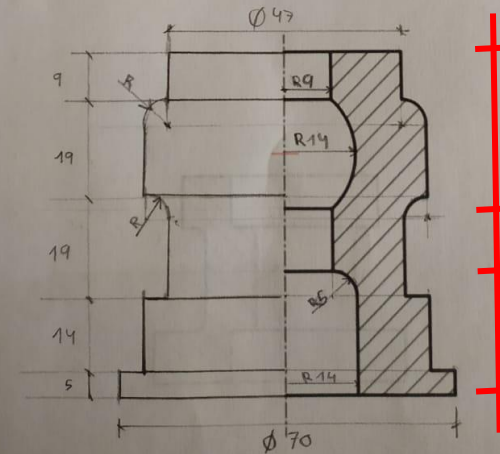
DTII Ejercicios correspondientes a los días 11 y 13 de marzo de 2020 (entrega 16-03-20 12.25h) I.E.S. El Escorial

A4.- Completar la representación de la figura, incluyendo, en la planta, un corte por su plano de simetría. Acótese según normativa para su correcta definición dimensional.



Faltaban medidas del exteriores y la parte seccionada en planta

B4.- Completar la representación de la figura, que corresponde a una pieza de revolución con un corte a un cuarto, añadiendo, sin seccionar, la parte que falta a la izquierda. Acótese según normativa para su correcta definición dimensional.



Faltan medidas del interior